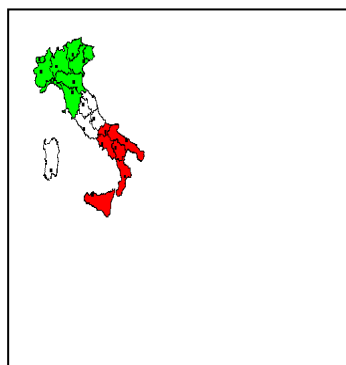


Freiarbeitsplan Erdkunde

ITALIEN



Station 1: Ein Blick auf die Regionen Italiens

Name: _____ Klasse: _____ zu erledigen bis: _____

Nr.	Titel	erledigt am	gesehen am	geprüft am
1	Regionen und Hauptstädte			
	<u>Auftrag a</u> Legende zu den Regionen und zur jeweiligen Hauptstadt anfertigen			
Diff.	<u>Auftrag a1</u> Legende zu zehn ausgewählten Regionen und zur jeweiligen Hauptstadt anfertigen			

	<u>Auftrag b</u> Kleinstaaten einzeichnen und benennen			
2	Nachbarstaaten			
	<u>Auftrag c</u> Nachbarstaaten skizzieren, benennen und anmalen			
Diff.	<u>Auftrag c1</u> Nachbarstaaten benennen und anmalen			
3	Regionenpuzzle			
	<u>Auftrag d</u> Regionen ausschneiden und aufkleben			
Diff.	<u>Auftrag d1</u> Regionen ausschneiden und aufkleben mit Partner			
4	Zur Wiederholung			
	<u>Auftrag e</u> Region mit Hauptstadt verbinden			

5	Zur Wiederholung und Vertiefung			
	<u>Auftrag f</u> Legende der italienischen Namen der Regionen und Hauptstädte			
	<u>Auftrag g</u> Lernspiel (Puzzle „Italia“ – Regionen)			

LERNZIELE:

- 1.) Du kannst mit politischen Karten im Atlas umgehen.
- 2.) Du kannst Informationen aus dem Atlas auf die Vorlage übertragen.
- 3.) Du kennst Italiens Regionen und Hauptstädte.
- 4.) Du kennst die beiden Kleinstaaten in Italien.
- 5.) Du kennst die Nachbarstaaten Italiens.

DIFFERENZIERTE LERNZIELE:

- 1.) Du kannst mit politischen Karten im Atlas umgehen.
- 2.) Du kannst Informationen aus dem Atlas auf die Vorlage übertragen.
- 3.) Du kennst zehn Regionen Italiens und deren Hauptstädte.
- 4.) Du kennst die Schweiz und Österreich als Nachbarstaaten Italiens.

1. Regionen und Hauptstädte

Auftrag a

Legende zu den Regionen und zur jeweiligen Hauptstadt anfertigen (Einzelarbeit)

Suche im Atlas eine politische Karte Italiens, benenne dann die auf Vorlage 1 mit Zahlen versehenen Regionen und schreibe jeweils die Hauptstadt dazu. Fertige dazu auf der Rückseite eine **Legende** an!

Ø *Weißt du noch?*

In einer Legende werden alle Zeichen/Symbole/Zahlen, die auf einer Karte verwendet werden, aufgelistet und erklärt.

Kontrolliere nun mit Lösungsblatt 1, ob du alles richtig gemacht hast!

Differenzierung: Auftrag a1

Legende zu zehn Regionen und zur jeweiligen Hauptstadt anfertigen (Einzelarbeit)

Suche im Atlas eine politische Karte Italiens, benenne dann die auf Vorlage 2 mit Zahlen versehenen Regionen und schreibe jeweils die Hauptstadt dazu. Fertige dazu neben der Karte eine **Legende** an!

Ø *Weißt du noch?*

In einer Legende werden alle Zeichen/Symbole/Zahlen, die auf einer Karte verwendet werden, aufgelistet und erklärt.

Kontrolliere nun mit Lösungsblatt 2, ob du alles richtig gemacht hast!

Name: _____ Klasse: _____ Datum: _____



Vorlage 1: Italiens Regionen und Hauptstädte



Lösungsblatt 1

<u>Nummer</u>	<u>Region</u>	<u>Hauptstadt</u>
1	Trentino-Südtirol	Trient - Bozen
2	Venetien	Venedig
3	Friaul-Julisch-Venetien	Triest
4	Lombardei	Mailand
5	Piemont	Turin
6	Aosta	Aosta
7	Ligurien	Genua
8	Emilia-Romagna	Bologna
9	Toskana	Florenz
10	Umbrien	Perugia
11	Marken	Ancona
12	Abruzzen	L`Aquila
13	Molise	Campobasso
14	Latium	Rom
15	Kampanien	Neapel
16	Apulien	Bari
17	Basilikata	Potenza
18	Kalabrien	Catanzaro
19	Sizilien	Palermo
20	Sardinien	Cagliari

Name: _____ Klasse: _____ Datum: _____



Vorlage 2: Italiens Regionen und Hauptstädte



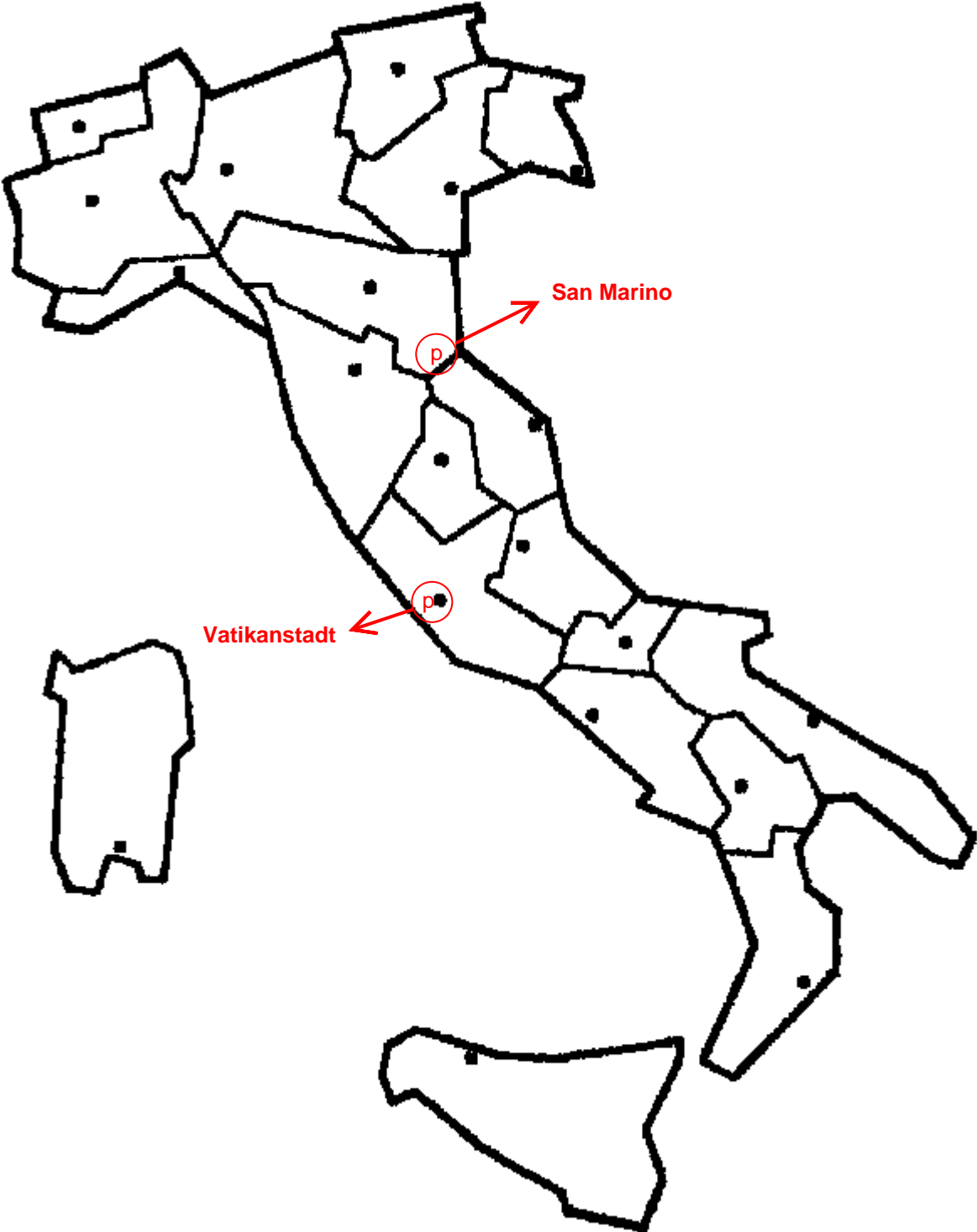
Lösungsblatt 2

<u>Nummer</u>	<u>Region</u>	<u>Hauptstadt</u>
1	Trentino-Südtirol	Trient - Bozen
2	Friaul-Julisch-Venetien	Triest
3	Venetien	Venedig
4	Lombardei	Mailand
5	Aosta	Aosta
6	Piemont	Turin
7	Emilia-Romagna	Bologna
8	Latium	Rom
9	Sizilien	Palermo
10	Sardinien	Cagliari

Auftrag b
Kleinstaaten einzeichnen und benennen (Einzelarbeit)

Zeichne auf Vorlage 1 die beiden Kleinstaaten in Italien ein und benenne sie!
Kontrolliere dann mit Lösungsblatt 3!

Lösungsblatt 3



2. Nachbarstaaten

Auftrag c

Nachbarstaaten skizzieren, benennen und anmalen (Einzelarbeit)

Skizziere auf Vorlage 3 die Nachbarstaaten Italiens, male sie mit verschiedenen Farben aus und benenne sie! Kontrolliere anschließend mit Lösungsblatt 4!

Differenzierung: Auftrag c1
Nachbarstaaten benennen und anmalen (Einzelarbeit)

Male auf Vorlage 4 die Schweiz und Österreich mit verschiedenen Farben aus und benenne sie! Kontrolliere anschließend mit Lösungsblatt 4!

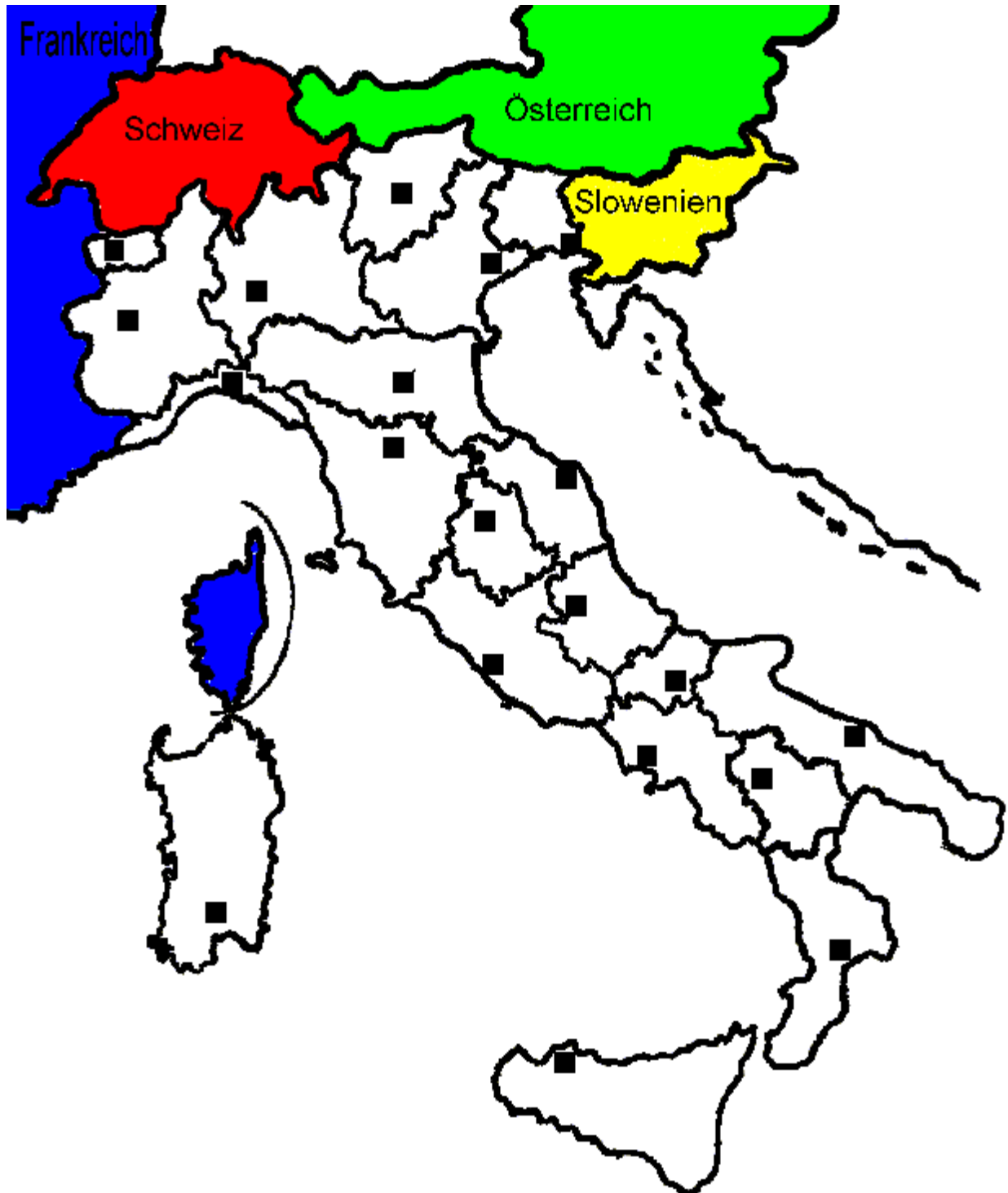
Name: _____ Klasse: _____ Datum: _____



Vorlage 3: Italiens Nachbarstaaten skizzieren



Lösungsblatt 4



Name: _____ Klasse: _____ Datum: _____



Vorlage 4: Italiens Nachbarstaaten



3. Regionenpuzzle

Auftrag d

Regionen ausschneiden und aufkleben (Einzelarbeit)


Schneide die einzelnen Regionen (Vorlage 5) aus und klebe sie an der richtigen Stelle auf die Vorlage 6 auf! Kontrolliere mit Vorlage 1, ob du den Staat Italien richtig zusammengesetzt hast!

Differenzierung: Auftrag d1

**Regionen ausschneiden und aufkleben mit Partner
(Partnerarbeit)**

Suche dir eine/n Mitschüler/in, schneidet die einzelnen Regionen (Vorlage 5) aus und klebt sie in Partnerarbeit an der richtigen Stelle auf die Vorlage 6 auf! Mit Vorlage 1 könnt ihr überprüfen, ob ihr den Staat Italien richtig zusammengesetzt habt!

Vorlage 5



Name: _____ Klasse: _____ Datum: _____



Vorlage 6: Regionenpuzzle



Name: _____ Klasse: _____ Datum: _____

Aus: Italienischbuch für die Mittelschule „Tocca a te“ – Schede di lavoro

4. Zur Wiederholung

Auftrag e

Region mit Hauptstadt verbinden (Einzelarbeit)

Zu den Regionen aus der linken Spalte passt jeweils eine Hauptstadt aus der rechten. Verbinde und kontrolliere mit Lösungsblatt 5!

<u>Region</u>	<u>Hauptstadt</u>
Marken	Genua
Ligurien	Ancona
Kampanien	Neapel
Venetien	Mailand
Molise	Venedig
Lombardei	Campobasso
Toskana	Triest
Friaul-Julisch-Venetien	Florenz
Piemont	Turin
Latium	Trient - Bozen
Umbrien	Rom
Trentino-Südtirol	Perugia
Sizilien	Bari
Apulien	Aosta
Aosta	Palermo
Sardinien	Catanzaro
Basilikata	L`Aquila
Abruzzen	Cagliari
Emilia-Romagna	Potenza
Kalabrien	Bologna

Lösungsblatt 5

Region

Hauptstadt

Marken — Genua
Ligurien — Ancona
Kampanien — Neapel

Venetien — Mailand
Molise — Venedig
Lombardei — Campobasso

Toskana — Triest
Friaul-Julisch-Venetien — Florenz
Piemont — Turin

Latium — Trient - Bozen
Umbrien — Rom
Trentino-Südtirol — Perugia

Sizilien — Bari
Apulien — Aosta
Aosta — Palermo

Sardinien — Catanzaro
Basilikata — L`Aquila
Abruzzen — Cagliari
Emilia-Romagna — Potenza
Kalabrien — Bologna

5. Zur Wiederholung und Vertiefung

Auftrag f

Legende der italienischen Namen der Regionen und Hauptstädte (Partnerarbeit)

Fertigt eine Legende der italienischen Namen der Regionen und Hauptstädte an, benutzt dafür Vorlage 1! Lösungsblatt 6 zeigt euch, ob ihr alles richtig gemacht habt!

Lösungsblatt 6

<u>Numero</u>	<u>Regione</u>	<u>Capoluogo</u>
1	Trentino-Alto Adige	Trento - Bolzano
2	Veneto	Venezia
3	Friuli-Venezia Giulia	Trieste
4	Lombardia	Milano
5	Piemonte	Torino
6	Valle d`Aosta	Aosta
7	Liguria	Genova
8	Emilia-Romagna	Bologna
9	Toscana	Firenze
10	Umbria	Perugia
11	Marche	Ancona
12	Abruzzo	L`Aquila
13	Molise	Campobasso
14	Lazio	Roma
15	Campania	Napoli
16	Puglia	Bari
17	Basilicata	Potenza
18	Calabria	Catanzaro
19	Sicilia	Palermo
20	Sardegna	Cagliari

Auftrag g
Lernspiel (Puzzle „Italia“ – Regionen; Partnerarbeit)

Lernspiel: Setzt das Puzzle „Italia“ – Regionen (ITALIA, 2 Giochi di composizione, 100 pezzi, Ravensburger) richtig zusammen!

Hinweise für die Lehrpersonen:

Die Aufträge d, f und g können im Sinne des fächerübergreifenden Unterrichts im Fach Italienisch angeboten werden.

Im Technischunterricht können die Schüler ein Holzpuzzle der Regionen anfertigen.